

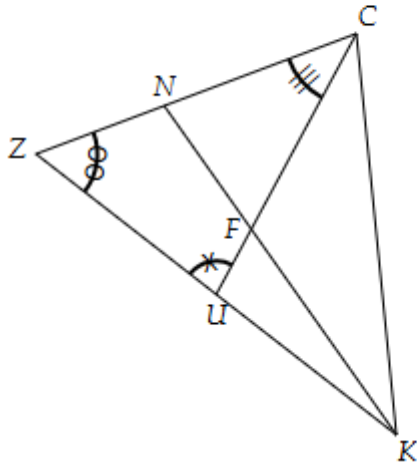
Nom :  
Prénom :

Classe :

## Sujet Blanc 6G4 – Angles

### Exercice 1 – Communiquer

- a) Comment peut-on nommer l'angle marqué par le symbole  $\odot$  ?  
b) Comment peut-on nommer l'angle marqué par le symbole  $\equiv$  ?  
c) Comment peut-on nommer l'angle marqué par le symbole  $\ast$  ?



### Exercice 2 – Représenter

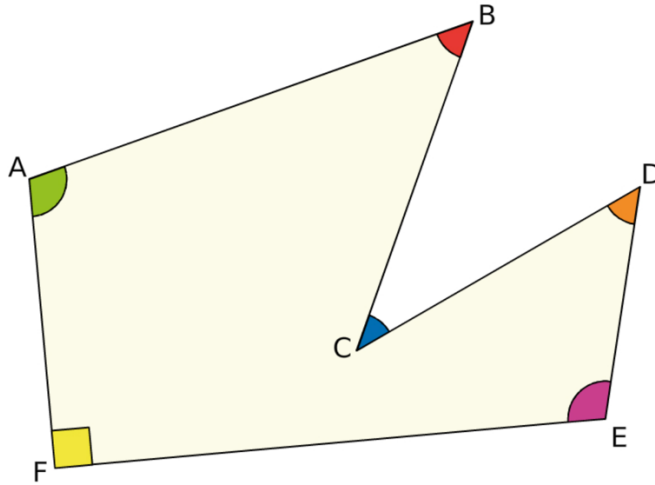
Mesurer les angles suivants :

### Exercice 3 – Représenter

Tracer un angle  $\alpha$  de  $32^\circ$  et un angle  $\beta$  de  $126^\circ$

#### Exercice 4 – Communiquer

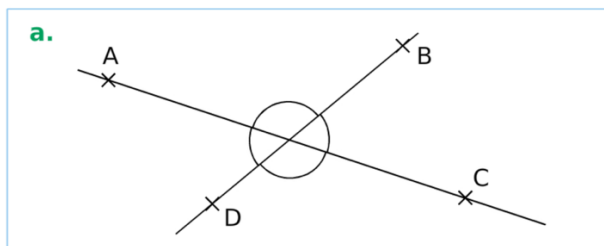
Donne la nature de chaque angle



- a. L'angle  $\widehat{FAB}$  est .....
- b. L'angle  $\widehat{ABC}$  est .....
- c. L'angle  $\widehat{BCD}$  est .....
- d. L'angle  $\widehat{CDE}$  est .....
- e. L'angle  $\widehat{FED}$  est .....
- f. L'angle  $\widehat{EFA}$  est .....

#### Exercice 5 – Communiquer

1. Colorie deux angles opposés par le sommet



2. Colorie deux angles supplémentaires

